



1° CORSO TEORIA - Questionario riassuntivo

- 1. Quale Arte rappresenta la Musica? _____
- 2. Con quali Elementi si esprime la Musica? _____
- 3. Come vengono classificati gli strumenti musicali? _____
- 4. Quanti e quali sono i caratteri distintivi del Suono? _____
- 5. Di quante linee si compone il Pentagramma? _____
- 6. Di quanti spazi si compone il Pentagramma? _____
- 7. Come si chiamava il monaco che denominò le note con i nomi che vengono usati oggi giorno
(do, re, mi, ecc.) _____ e quando avvenne? _____
- 8. Quante sono le note musicali? _____
- 9. Scrivi il nome delle note _____
- 10. Qual è lo scopo delle Chiavi musicali? _____


11. Disegna la Chiave di Violino e quella di Basso 

12. Che cosa si intende per scala musicale? _____

13. Scrivi una Scala ascendente partendo dalla nota DO (dopo aver disegnato la tua Chiave)



14. Scrivi una Scala discendente partendo dalla nota Mi (dopo aver disegnato la tua Chiave)



15. Scrivi le seguenti note all'Ottava superiore e all'Ottava inferiore (solo nella chiave che conosci)



16. Che cosa sono i tagli addizionali?

17. Indica il nome delle seguenti note scritte al di fuori dal Pentagramma (solo nella chiave che conosci)

18. Completa la seguente tabella dei valori musicali (con i simboli mancanti: figure, pause, denominazioni, frazioni)

FIGURA							
PAUSA							
DENOMINAZIONE	Semibreve <i>Intero</i>	Minima _____	Semiminima _____	Croma <i>Ottavo</i>	Semicroma _____	Biscroma _____	Semibiscroma _____
VALORE (in Frazioni)				$\frac{1}{8}$			

19. Indica con delle frazioni il valore di durata delle seguenti note

= ___ = ___ = ___

20. Completa con frazioni il seguente specchietto

+ = ___ + + = ___

21. Quanti e quali sono i simboli usati per prolungare il suono?

22. Come si chiama lo spazio sul rigo delimitato da stanghette? _____

23. Che cosa indica la frazione posta all'inizio del rigo? _____

24. Quali sono i significati del Numeratore e del Denominatore?

2 Numeratore = _____

4 Denominatore = _____

25. Scrivi in altro modo i tempi seguenti?

C = _____ $\frac{2}{4}$ = _____ $\frac{3}{4}$ = _____ C = _____


26. Quante suddivisioni ci sono in un movimento del Tempo $\frac{3}{4}$ _____

27. Scrivi i Tempi semplici che conosci _____

28. Indica con F, MF, D la posizione degli accenti ritmici



29. Disegna, dove è possibile, la legatura di valore e metti le stanghette di misura dove occorrono (semplici e finali)



Annotazioni
